



موسسه آموزش عالی نبی اکرم (ص)

تاریخ امتحان ۱۳۹۳/۱۰/۲۳  
رشته ارتباط تصویری

نام درس مناظر و مریا  
نام استاد اسلامی  
سال تحصیلی ۱۳۹۴-۱۳۹۳

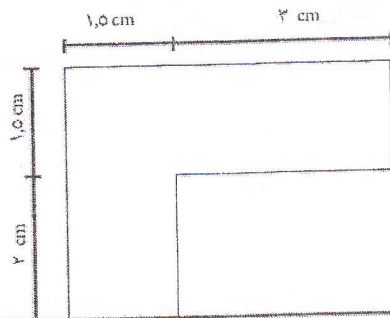
نام و نام خانوادگی  
شماره دانشجویی  
تیمسال اول

زمان امتحان: ۱۲۰ دقیقه

۱- پرسپکتیو یک نقطه ای پلان (نمای) زیر را با توجه به مختصات داده شده ترسیم نمایید. (۴)

$4\text{cm} = HL$

ارتفاع حجم =  $2\text{cm}$

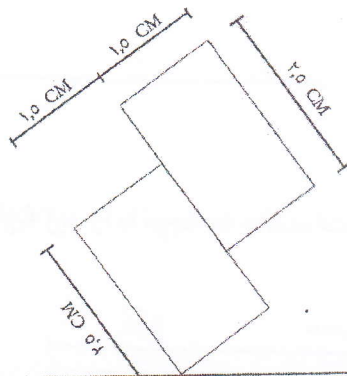


SP

۲- با توجه به صورت مسئله داده شده برای شکل زیر حجم پرسپکتیو دو نقطه ای ترسیم نمایید. (۴)

6 cm = HL

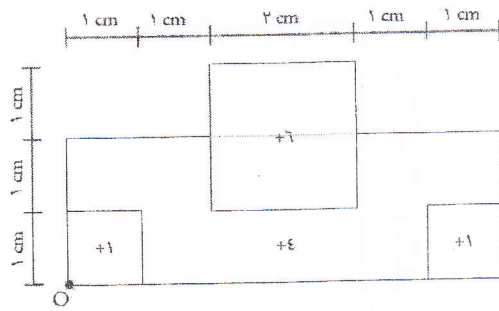
ارتفاع حجم = 3cm



PP

● SP

۲- مطلوب است ترسیم تصویر مقابل به روش ایزومتريک. (۳/۵)



۴- مطلوب است ترسیم تصویر مقابل به روش جنرال. (۳/۵)

